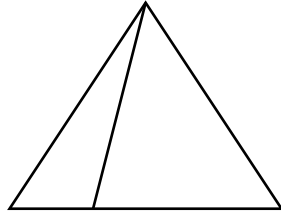
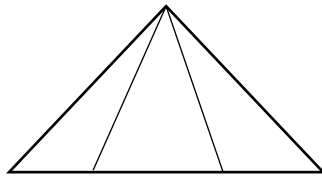


第 1 讲：数数图形

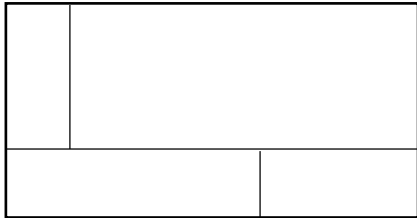
例 1：你能数出下图中有几个三角形吗？



练习 1：你能数出下图中有几个三角形吗？



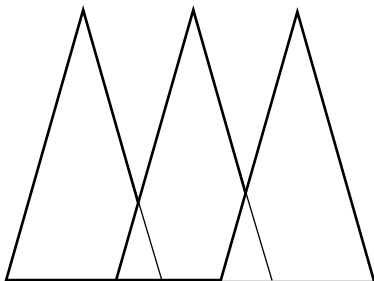
例 2：数一数，下面共有多少个长方形？



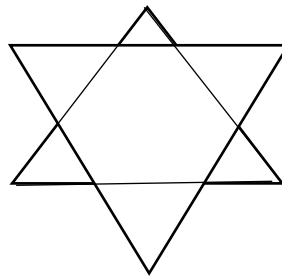
练习 2：数数下面图中共有多少个长方形？



例 3：数一数，下图中共有多少个三角形？



() 个



() 个